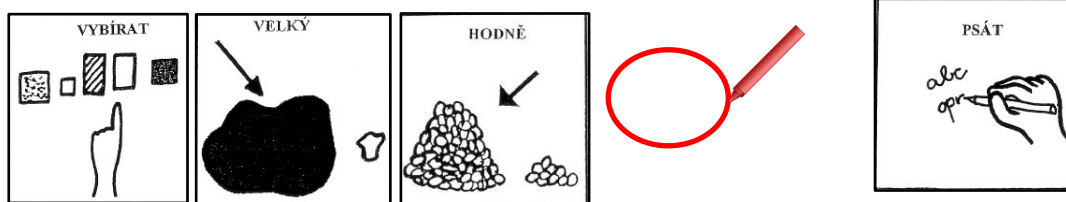


JMÉNO: .....

DATUM: .....


**POČETNÍ OPERACE S JEDNOTKAMI OBJEMU, POČÍTÁME V MILILITRECH, CENTILITRECH**  
**OZNAČ BAREVNĚ OBRÁZEK, KDE JE VÍCE ML, NEBO CL A JEJICH POČET NAPIŠ DO RÁMEČKU.**



OČNÍ KAPKY



4 ml



OČNÍ KAPKY



6 ml

INJEKČNÍ STŘÍKAČKA



5 ml



INJEKČNÍ STŘÍKAČKA




2 ml

KAPKA VODY



2 ml



KAPKA VODY




1 ml

ODMĚRKY NA ALKOHOL



4 cl



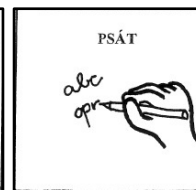
ODMĚRKA NA ALKOHOL



2 cl

NEMOCNÝ PACIENT DOSTÁVAL V NEMOCNICI KAŽDÝ DEN O 1 MILILITR VĚTŠÍ DÁVKU LÉKŮ. DOPLŇ ČÍSELNOU ŘADU: + 1

1ml



PONDĚLÍ

ÚTERÝ

STŘEDA

ČTVRTEK

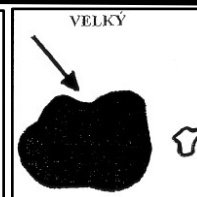
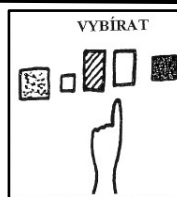
1 ml

..... ml

..... ml

..... ml

PADAL HUSTÝ DEŠŤ, ZAKRUŽKUJ NEJVĚTŠÍ KAPKU.



1 ml

2 ml

5 ml

10 ml

6 ml

3 ml

8 ml

DO AMERICKÉ LIMONÁDY DAL BARMAN 1 CL CITRÓNOVÉ ŠŤÁVY A 2 CL VIŠŇOVÉ ŠŤÁVY. KOLIK CENTILITRŮ ŠŤÁVY DAL CELKEM DO AMERICKÉ LIMONÁDY?



1 cl


+



2 cl

=

..... cl



ZAKROUŽKUJ 2 STEJNÉ ODMĚRKY S KAPALINOU.

